

ใบงานที่ 7 เรื่อง การบวกจำนวนเต็มลบด้วยจำนวนเต็มบวก  
 หน่วยที่ 1 แผนการจัดการเรียนรู้ที่ 7 เรื่อง การบวกจำนวนเต็มลบด้วยจำนวนเต็มบวก  
 รายวิชาคณิตศาสตร์ 1 รหัสวิชา ค 21101 ภาคเรียนที่ 1 ชั้นมัธยมศึกษาปีที่ 1

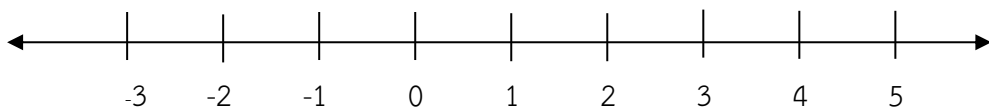
ชื่อ-นามสกุล ..... ชั้น ..... เลขที่ .....

**จุดประสงค์การเรียนรู้**

1. อธิบายการบวกจำนวนเต็มลบกับจำนวนเต็มบวกได้
2. แสดงวิธีหาคำตอบของการบวกจำนวนเต็มลบด้วยจำนวนเต็มบวกได้

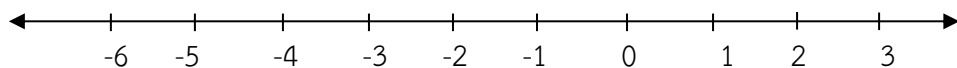
**คำชี้แจง** จงหาผลบวกของจำนวนเต็มต่อไปนี้โดยใช้เส้นจำนวน (ข้อละ 1 คะแนน)

1.  $(-2) + 6 = \dots\dots\dots$



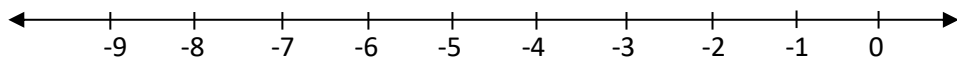
ผลลัพธ์ คือ .....

2.  $(-5) + 2 = \dots\dots\dots$



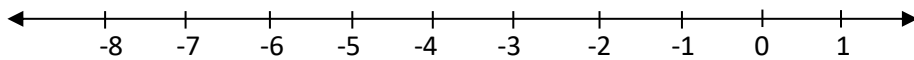
ผลลัพธ์ คือ .....

3.  $(-9) + 6 = \dots\dots\dots$



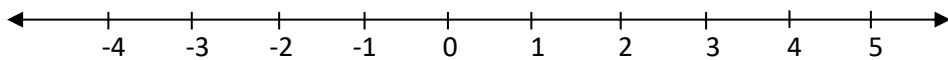
ผลลัพธ์ คือ .....

4.  $(-7) + 5 = \dots\dots\dots$



ผลลัพธ์ คือ .....

5.  $(-3) + 8 = \dots\dots\dots$



ผลลัพธ์ คือ .....

**คำชี้แจง** จงเติมคำตอบลงในช่องว่างให้ถูกต้องสมบูรณ์ (ข้อละ 1 คะแนน)

1.  $(-24) + 15 = \dots\dots\dots$
2.  $(-33) + 17 = \dots\dots\dots$
3.  $(-14) + 5 = \dots\dots\dots$
4.  $(-7) + 7 = \dots\dots\dots$
5.  $(-25) + 14 = \dots\dots\dots$

6.  $(-32) + 35 = \dots\dots\dots$

7.  $(-13) + 9 = \dots\dots\dots$

8.  $(-11) + 22 = \dots\dots\dots$

9.  $(-28) + 67 = \dots\dots\dots$

10.  $(-74) + 57 = \dots\dots\dots$