

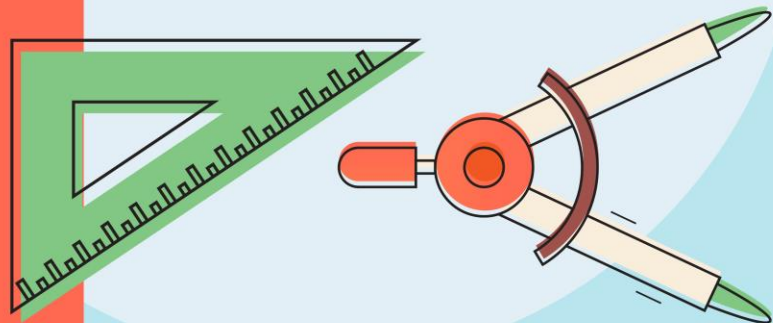
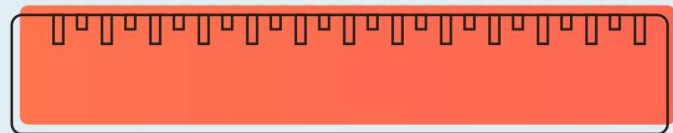
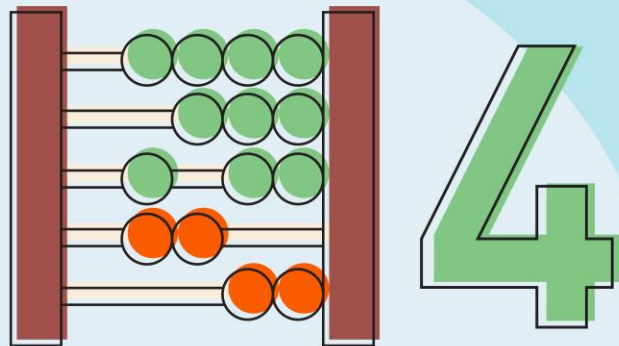
# รายวิชา คณิตศาสตร์

รหัสวิชา ค14101

ชั้นประถมศึกษาปีที่ 4

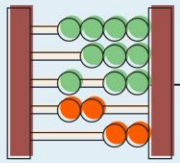
ผู้สอน ครูสุภาวรรณ ปานกิจเจริญ

เรื่อง การวิเคราะห์โจทย์ปัญหา  
และหาคำตอบ





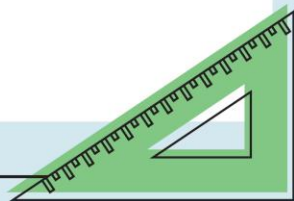
การวิเคราะห์โจทย์ปัญหา  
และหาคำตอบ

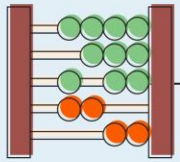


พี่มีรายได้ปีละ 845,000 บาท น้องมี  
รายได้น้อยกว่าพี่ปีละ 68,000 บาท  
น้องมีรายได้ปีละกี่บาท

1. โจทย์ถามอะไร

น้องมีรายได้ปีละกี่บาท

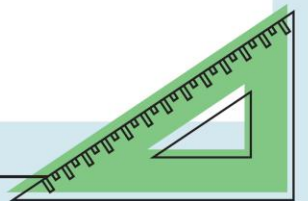


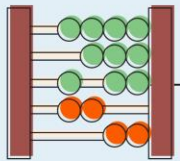


## 2. โจทย์บอกอะไร

พี่มีรายได้ปีละ 845,000 บาท

น้องมีรายได้น้อยกว่าพี่ปีละ 68,000 บาท

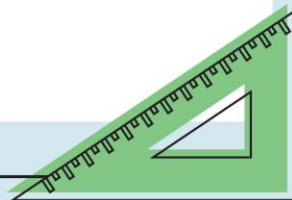


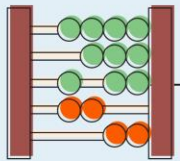


### 3. คิดหาคำตอบได้อย่างไร

นำรายได้ของพีลบด้วย

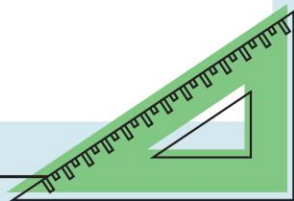
รายได้ของน้องที่น้อยกว่าพี

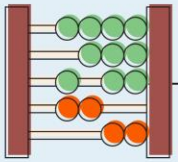




## 4. เขียนประโยคสัญลักษณ์ได้อย่างไร

$$845,000 - 68,000 = \square$$

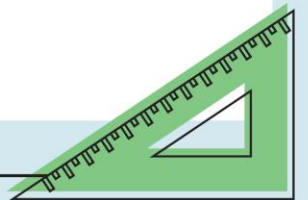


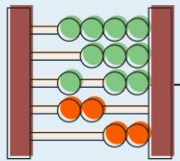


$$\begin{array}{r} 71315 \\ \cancel{845,000} - \end{array}$$

$$\underline{68,000}$$

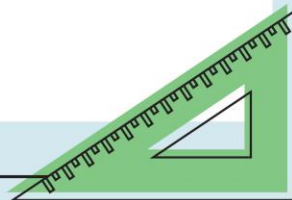
$$\underline{\underline{777,000}}$$



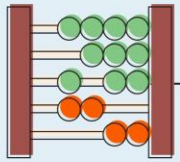


## 5. น้องมีรายได้ปีละกี่บาท

น้องมีรายได้ปีละ 777,000 บาท



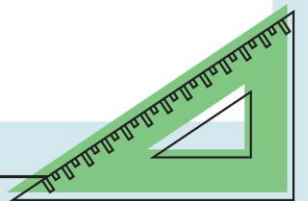




6. จะตรวจสอบว่า 777,000

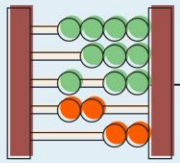
เป็นคำตอบที่ถูกต้องได้อย่างไร

$$777,000 + 68,000 = 845,000$$



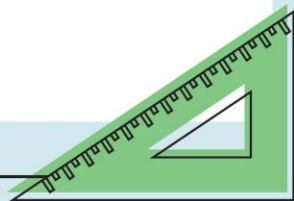


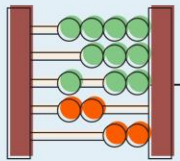
จงวิเคราะห์หัวใจทย์และ  
หาคำตอบ



นักเรียนชั้น ป.4 ในปี พ.ศ.2556

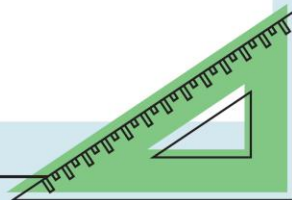
มี 810,165 คน แต่ในปี พ.ศ.2557 มีนักเรียน  
ชั้นป.4น้อยกว่าปี พ.ศ.2556จำนวน 9700 คน  
ปี พ.ศ. 2557 มีนักเรียนชั้น ป.4 ก็คน

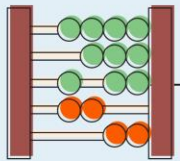




# 1. โจทย์ถามอะไร

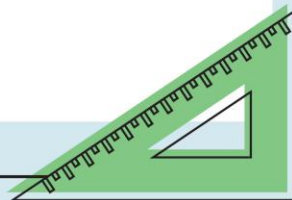
ปี พ.ศ. 2557 มีนักเรียนชั้น ป.4 กี่คน

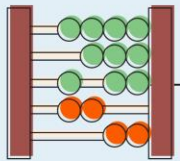




## 2. โจทย์บอกอะไร

นักเรียนชั้น ป.4 ในปี พ.ศ.2556 มี 810,165 คน  
แต่ในปี พ.ศ.2557 มีนักเรียนชั้น ป.4 น้อยกว่า  
ปี พ.ศ.2556 จำนวน 9,700 คน



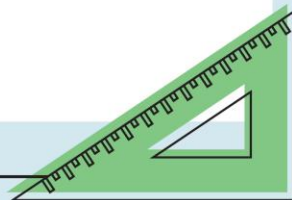


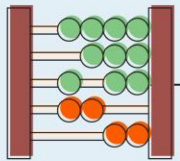
### 3. คิดหาคำตอบได้อย่างไร

นำจำนวนนักเรียนปี พ.ศ.2556 ลบด้วย

จำนวนนักเรียนปี พ.ศ.2557 ที่น้อยกว่าปี

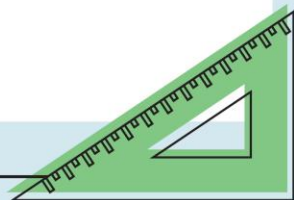
ปี พ.ศ.2556

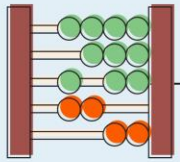




## 4. เขียนประโยคสัญลักษณ์ได้อย่างไร

$$810,165 - 9,700 = \square$$

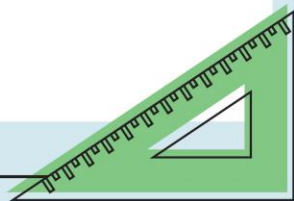




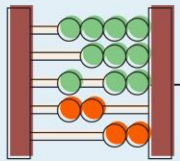
5.ปี พ.ศ. 2557 มีนักเรียนชั้น ป.4 กี่คน

ปีพ.ศ. 2557 มีนักเรียนชั้น ป.4

800,465 คน



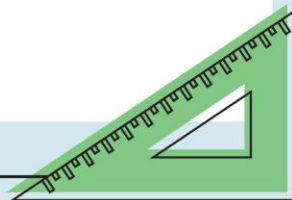


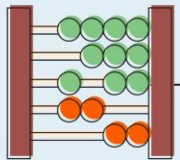


6. จะตรวจสอบว่า 800,465

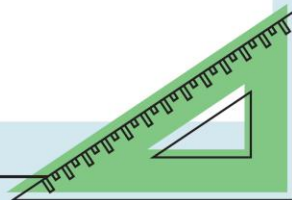
เป็นคำตอบที่ถูกต้องได้อย่างไร

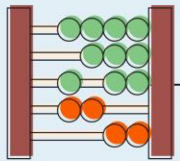
$$800,465 + 9,700 = 810,165$$



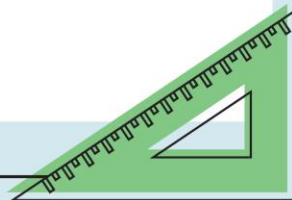


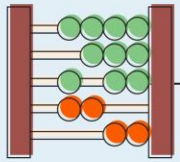
แบ่งนักเรียน 4 กลุ่ม





1.ลุงแดงขายสินค้าเกษตรได้ 563,000 บาท  
ลุงแดงขายสินค้าเกษตรได้น้อยกว่าลุงขาว  
214,800 บาท ลุงขาวขายสินค้าเกษตร  
ได้เงินกี่บาท

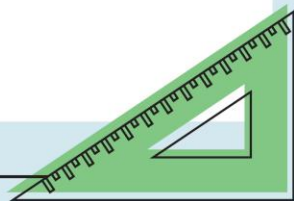


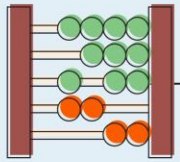


1. โจทย์ถามอะไร

2. โจทย์บอกอะไร

3. คิดหาคำตอบได้อย่างไร

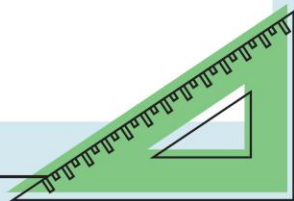


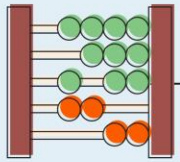


4.เขียนประโยคสัญลักษณ์ได้อย่างไร

5.ลุงขายขายสินค้าเกษตรได้เงินกี่บาท

6.จะตรวจสอบว่า.....เป็นคำตอบ  
ที่ถูกต้องได้อย่างไร

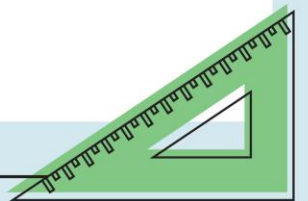


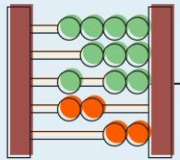


2.สมชายมีเงิน 1,000,000 บาท

สมชายมีเงินน้อยกว่าสุชาติ 500,000 บาท

สุชาติมีเงินกี่บาท

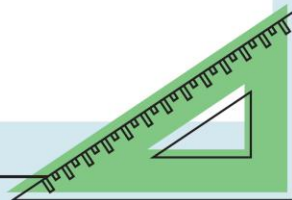


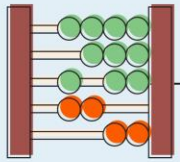


1. โจทย์ถามอะไร

2. โจทย์บอกอะไร

3. คิดหาคำตอบได้อย่างไร

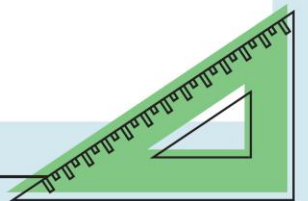




4.เขียนประโยคสัญลักษณ์ได้อย่างไร

5.สุชาติมีเงินกี่บาท

6.จะตรวจสอบว่า.....เป็นคำตอบ  
ที่ถูกต้องได้อย่างไร

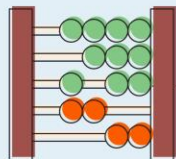






# การบ้าน

แบบฝึกหัด 1.21



หน่วยที่

๑

จำนวนนับและการบวก การลบ การคูณ การหาร

☆☆

ปี ๑.๒๑๓/พ.๒๑๓

### แบบฝึกหัด 1.21

วิเคราะห์โจทย์และหาคำตอบ

1. ในเดือนมกราคม ร้านขายต้นไม้ขายต้นไม้ได้ 35,650 ดอก ในเดือนกุมภาพันธ์ร้านขายต้นไม้ได้น้อยกว่าเดือนมกราคม 1,237 ดอก เดือนกุมภาพันธ์ร้านขายต้นไม้ได้กี่ดอก

1) โจทย์ถามอะไร

.....

2) โจทย์บอกอะไร

.....

3) คิดหาคำตอบได้อย่างไร

.....

.....

4) เขียนประโยคสัญลักษณ์ได้อย่างไร

.....

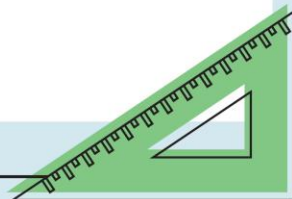
5) เดือนกุมภาพันธ์ร้านขายต้นไม้ได้กี่ดอก

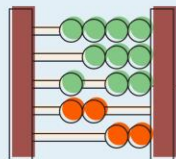
.....

6) จะตรวจสอบว่า.....เป็นคำตอบที่ถูกต้องได้อย่างไร

.....

.....





หน่วยที่



จำนวนนับและการบวก การลบ การคูณ การหาร



ผ.๑.๒๑/ผ.๒๑

2. กรุงเทพมหานครมีพื้นที่ 1,569 ตารางกิโลเมตร กรุงเทพมหานครมีพื้นที่น้อยกว่า จังหวัดนครราชสีมา 18,925 ตารางกิโลเมตร จังหวัดนครราชสีมาพื้นที่กี่ตารางกิโลเมตร

1) โจทย์ถามอะไร

.....

2) โจทย์บอกอะไร

.....

3) คิดหาคำตอบได้อย่างไร

.....

4) เขียนประโยคสัญลักษณ์ได้อย่างไร

.....

5) จังหวัดนครราชสีมาพื้นที่กี่ตารางกิโลเมตร

.....

6) จะตรวจสอบว่า..... เป็นคำตอบที่ถูกต้องได้อย่างไร

.....

.....

.....

