

# รายวิชา คณิตศาสตร์

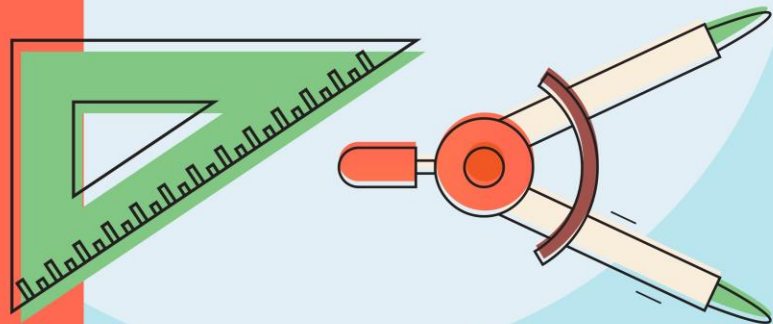
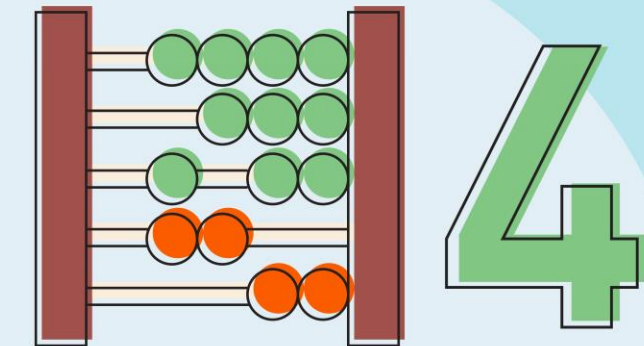
รหัสวิชา ค14101

ชั้นประถมศึกษาปีที่ 4

ผู้สอน ครูสุภาวรรณ ปานกิจเจริญ

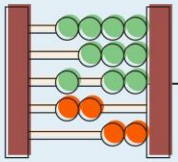
เรื่อง การหาเลขโดด

ในหลักต่างๆ





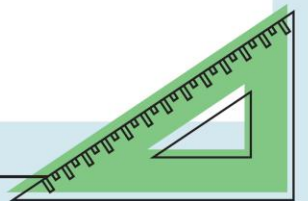
จงหาคำตอบโดยใช้ความสัมพันธ์  
ของการบวกและการลบ

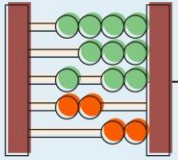


$$1) \square + 20 = 30$$

$$\square = 30 - 20$$

$$\square = 10$$

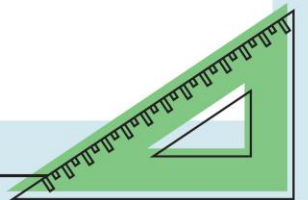


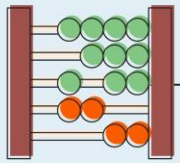


$$2) 125 + \square = 200$$

$$\square = 200 - 125$$

$$\square = 75$$

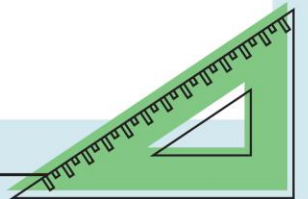




$$3) \square - 180 = 40$$

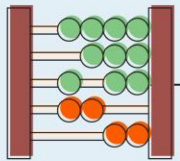
$$\square = 40 + 180$$

$$\square = 220$$





การหาเลขโดดในหลักต่าง ๆ



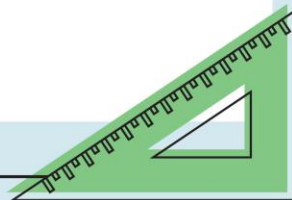
ตัวตั้ง

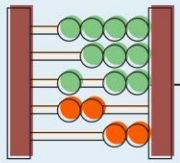
3	2	
	0	6
8		9

ตัวบวก

ผลบวก

+  
แผนภาพนี้แสดงอะไร  
แสดงการบวกที่กำหนด  
เลขโดดไม่ครบหลัก





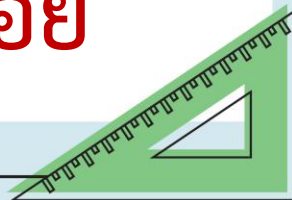
ตัวตั้ง

ตัวบวก

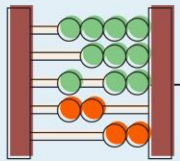
ผลบวก

3	2	
	0	6
8		9

จากแผนภาพจะต้องเติม  
+ เลขโดดในหลักใดบ้าง  
ตัวตั้งในหลักหน่วย  
ผลบวกในหลักสิบ  
ตัวบวกในหลักร้อย







ตัวตั้ง

3	2	
	0	6
8		9

ตัวบวก

+

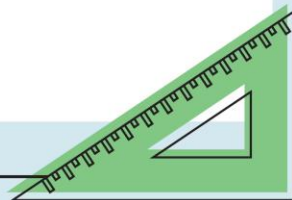
ผลบวก

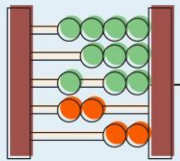
ในการหาเลขโดด

จะเริ่มจากหลักใด

หลักหน่วย หลักสิบ

หลักร้อย





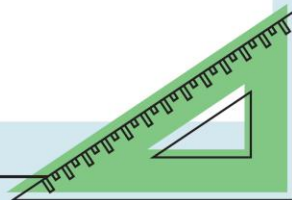
ตัวตั้ง

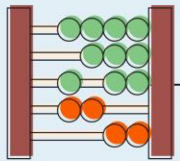
3	2	3
5	0	6
8	2	9

+

ตัวบวก

ผลบวก





ตัวตั้ง

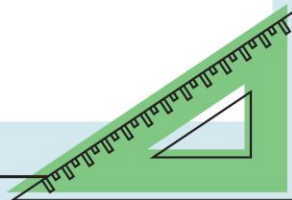
9	3	2	8	<del>7</del> <sup>6</sup>	<del>3</del> <sup>13</sup>	-
---	---	---	---	---------------------------	----------------------------	---

ตัวลบ

1	3	1	5	2	4
---	---	---	---	---	---

ผลลบ

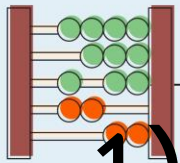
8	0	1	3	4	9
---	---	---	---	---	---





จงเติมเลขโดดลงใน □

Three horizontal dashed lines for writing practice, located below the text.

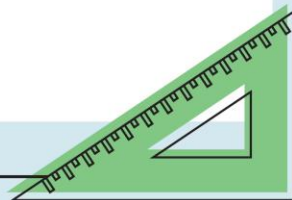


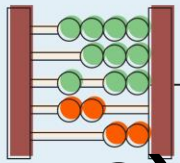
1)

ตัวตั้ง

	1		1		1	
	2	4	6	5	6	9
ตัวบวก	3	6	1	8	2	4
ผลบวก	6	0	8	3	9	3

+





2)

ตัวตั้ง

<del>2</del>	<del>15</del>	<del>11</del>	<del>10</del>	7	4	<del>5</del>	<del>11</del>
<del>3</del>	<del>6</del>	<del>2</del>	<del>0</del>			<del>6</del>	<del>1</del>

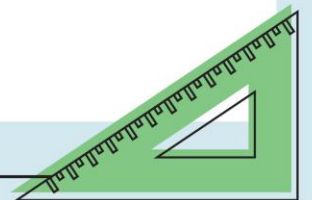
-

ตัวลบ

1	8	4	7	7	2	5	9
---	---	---	---	---	---	---	---

ผลลบ

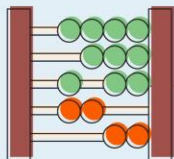
1	7	7	3	0	2	0	2
---	---	---	---	---	---	---	---





# การบ้าน

แบบฝึกหัด 1.19



หน่วยที่  
๑

จำนวนนับและการบวก การลบ การคูณ การหาร

☆☆☆ ส.อ.๑๐๐/พ.๑๐๐

### แบบฝึกหัด 1.19

เติมเลขโดดใน

1.

6		4	2	1	
3	0		4		9
	5	5		7	9

+

2.

	3	6	2		3
1		6	0	5	
4	1			3	1

-

3.

3	6	1	0		
2	2			2	6
		0	8	7	1

+

4.

	5	7	8		0
3	8		3	1	
2		5		0	6

-

5.

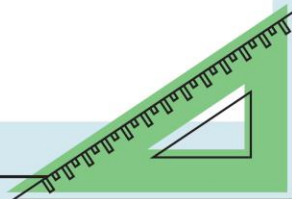
2	5		3	6	0	3	8
	7	2	0	3		1	2
8	2	6		9	8	5	

+

6.

	2	5	6	4	8	7	
3	9	1		7		8	4
4	3		2		2	9	5

-





หน่วยที่  
๑

จำนวนนับและการบวก การลบ การคูณ การหาร

☆☆☆ ส.๑.๑๙/ท.๑๙

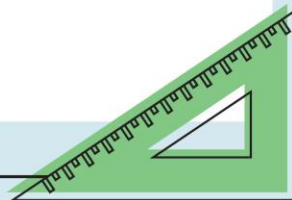
แบบฝึกหัด 1.19

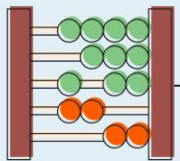
เติมเลขโดดใน

1.

6	5	4	2	1	0
3	0	1	4	6	9
9	5	5	6	7	9

+

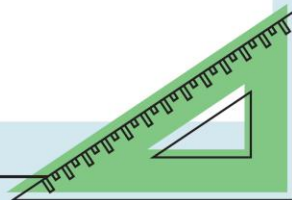


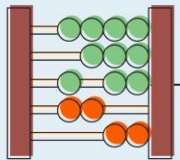


2.

5	3	6	2	8	3
1	2	6	0	5	2
4	1	0	2	3	1

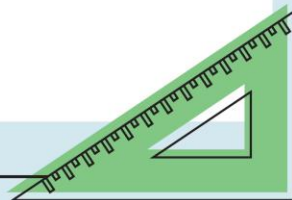
 -

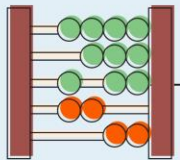




3.

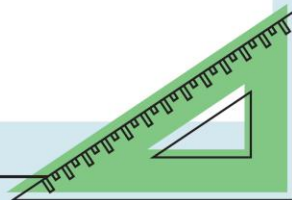
	1			1		
3	6	1	0	4	5	
2	2	9	8	2	6	+
5	9	0	8	7	1	

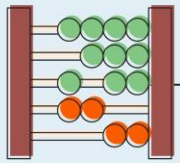




4.

<del>5</del> <del>6</del>	<del>15</del> <del>5</del>	7	8	<del>1</del> <del>2</del>	<del>10</del> <del>0</del>	-
3	8	2	3	1	4	
2	7	5	5	0	6	

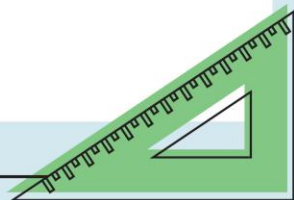


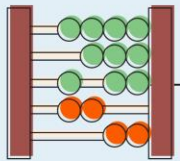


5.

	1					1	
2	5	4	3	6	0	3	8
5	7	2	0	3	8	1	2
8	2	6	3	9	8	5	0

+





6.

<del>7</del> <del>8</del>	<del>12</del> <del>2</del>	5	<del>5</del> <del>6</del>	<del>14</del> <del>4</del>	<del>7</del> <del>8</del>	<del>17</del> <del>7</del>	9	-
3	9	1	3	7	5	8	4	
4	3	4	2	7	2	9	5	

