

แบบฝึกหัด 1.25

1 เขียนตัวเลขแสดงความสัมพันธ์ของจำนวนแบบส่วนย่อย - ส่วนรวม

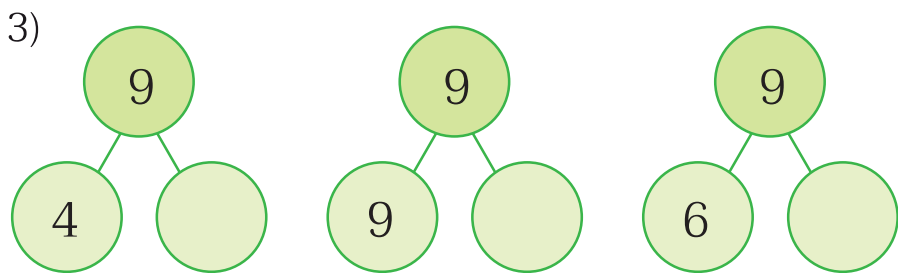
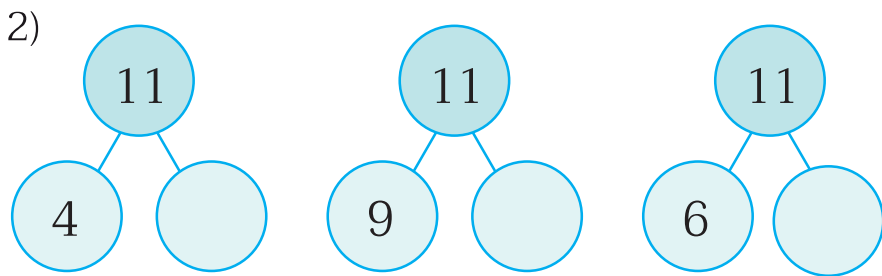
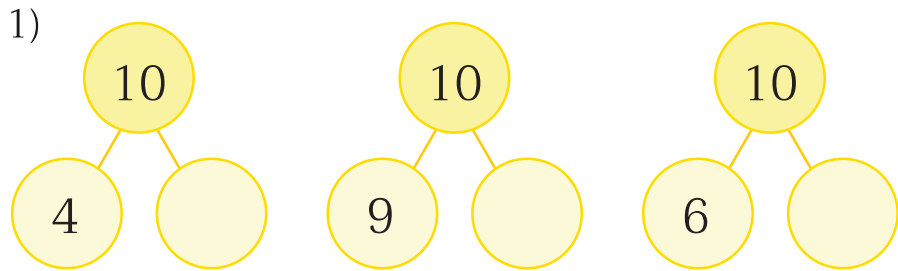
ตัวอย่าง

1)

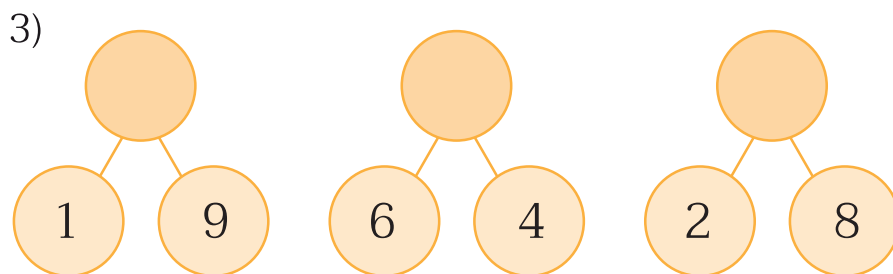
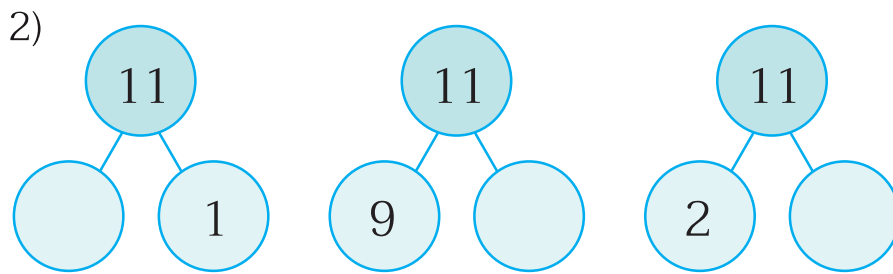
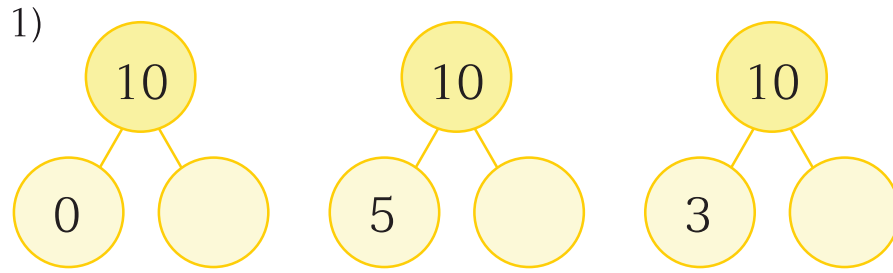
2)



๒ เขียนตัวเลขแสดงความสัมพันธ์ของจำนวนแบบส่วนย่อย - ส่วนรวม



3 เขียนตัวเลขแสดงความสัมพันธ์ของจำนวนแบบส่วนย่อย - ส่วนรวม





4 เขียนตัวเลขแสดงความสัมพันธ์ของจำนวนแบบส่วนย่อย - ส่วนรวม

