









แบบฝึกหัด 1.22

1) เขียนตัวเลขแสดงจำนวนใน และเขียน X ทับตัวเลขแสดงจำนวนที่มากกว่า





1)

		<input type="text"/>
		<input type="text"/>





2)

		<input type="text"/>
		<input type="text"/>

3)

		<input type="text"/>
		<input type="text"/>

4)

		<input type="text"/>
		<input type="text"/>

2) เขียนวงล้อมรอบตัวเลขแสดงจำนวนที่น้อยกว่า

1) 8 10

2) 11 9

3) 20 17

4) 12 19

5) 11 13

6) 18 20

7) 14 17

8) 19 16

9) 15 18



3 เขียนเครื่องหมาย > (มากกว่า) หรือ < (น้อยกว่า) ใน

1) 9 18

2) 16 15

11 41

4) 18 20

4 เขียน หน้าข้อที่แสดงการเปรียบเทียบจำนวนได้ถูกต้อง
เขียน หน้าข้อที่แสดงการเปรียบเทียบจำนวนไม่ถูกต้อง

..... 1)

..... 2)

..... 3)

..... 4)

5 เติมตัวเลขใน ให้เป็นจริง โดยไม่ใช้ตัวเลขซ้ำกัน

10 11 12 13 14 15 16 17 18 19 20

1) >

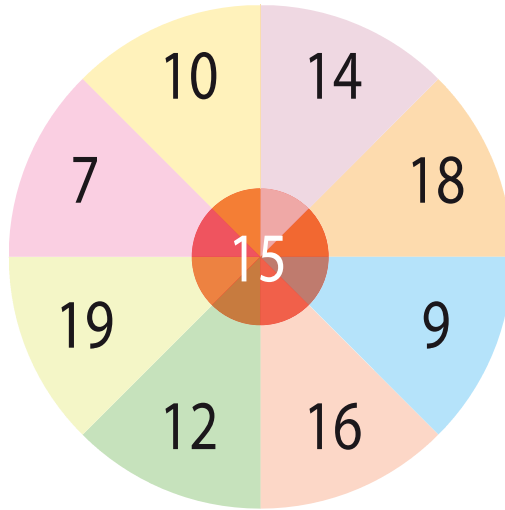
2) <

3) <

4) >

5) >

๖ เขียนวงล้อมรอบตัวเลขแสดงจำนวนที่ **น้อยกว่า** จำนวนที่อยู่ตรงกลาง



๗ เขียนวงล้อมรอบตัวเลขแสดงจำนวนที่ **มากกว่า** จำนวนที่อยู่ตรงกลาง

