


แบบฝึกหัด 1.20

1 เขียนตัวเลขแสดงจำนวนสิบกับหน่วย แล้วเขียนตัวเลข
ฮินดูอารบิกแสดงจำนวนนั้นใน

ตัวอย่าง



1

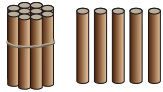
สิบ กับ

9

หน่วย

19

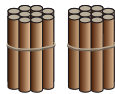
1)



สิบ กับ

หน่วย

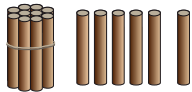
2)



สิบ กับ

หน่วย


3)



สิบ กับ

หน่วย

4)



สิบ กับ

หน่วย

๒ เขียนเลขโดดในหลักสิบและหลักหน่วยตามจำนวนที่กำหนดให้
ใน

	จำนวน	หลักสิบ	หลักหน่วย
ตัวอย่าง	13	1	3
1)	17	<input type="text"/>	<input type="text"/>
2)	11	<input type="text"/>	<input type="text"/>
3)	16	<input type="text"/>	<input type="text"/>
4)	20	<input type="text"/>	<input type="text"/>
5)	12	<input type="text"/>	<input type="text"/>
6)	19	<input type="text"/>	<input type="text"/>
7)	14	<input type="text"/>	<input type="text"/>
8)	10	<input type="text"/>	<input type="text"/>
9)	15	<input type="text"/>	<input type="text"/>
10)	18	<input type="text"/>	<input type="text"/>

3 เขียนค่าของเลขโดดในแต่ละหลัก

ตัวอย่าง

12

1

ในหลักสิบ มีค่า

10

2

ในหลักหน่วย มีค่า

2

1)

18

ในหลักสิบ มีค่า

ในหลักหน่วย มีค่า

2)

15

ในหลักสิบ มีค่า

ในหลักหน่วย มีค่า

4 เขียนหลักและค่าของเลขโดดที่ ขีดเส้น ได้

1)

13

1 อยู่ในหลัก

.....

มีค่า

.....

2)

6

6 อยู่ในหลัก

.....

มีค่า

.....

3)

4

4 อยู่ในหลัก

.....

มีค่า

.....

4)

20

2 อยู่ในหลัก

.....

มีค่า

.....

0 อยู่ในหลัก

.....

มีค่า

.....

5)

19

1 อยู่ในหลัก

.....

มีค่า

.....

9 อยู่ในหลัก

.....

มีค่า

.....



๕ เขียนตัวเลขแสดงจำนวน

ค่าของเลขโดดในหลักสิบ	ค่าของเลขโดดในหลักหน่วย	จำนวน
ตัวอย่าง 10	9	19
1) 10	<input type="text"/>	11
2) <input type="text"/>	7	17
3) 10	3	<input type="text"/>
4) 10	<input type="text"/>	16
5) <input type="text"/>	4	14
6) 10	8	<input type="text"/>