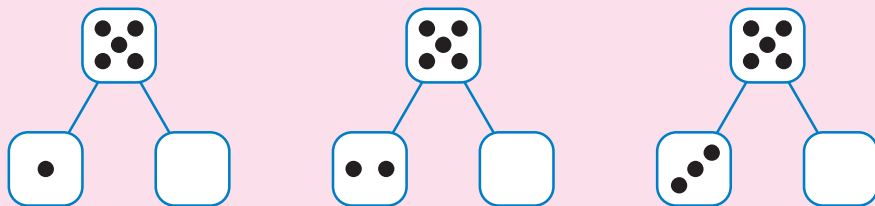

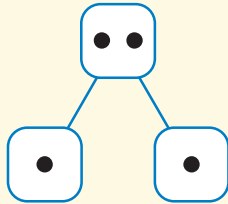


แบบฝึกหัด 1.6

1 เขียนภาพแสดงความสัมพันธ์ของจำนวนแบบส่วนย่อย-ส่วนรวม

ตัวอย่าง





๒ เขียนตัวเลขแสดงความสัมพันธ์ของจำนวนแบบส่วนย่อย-ส่วนรวม

ตัวอย่าง

