



แบบฝึกหัด 6.31


1 ชัด ✓ หน้าข้อที่มีข้อความที่ถูกต้อง

- ☐ 1. น้ำอ้อยชั้นในเหยือก  มีปริมาตร 1 ลิตร
เหยือกมีความจุ 1 ลิตร

- ☐ 2. นมเต็มขวด  ตวงได้ 5 ลิตรพอดี
ขวดนี้มีความจุ 5 ลิตร


- ☐ 3.  น้ำส้มในโหลแก้วตวงได้ 4 ลิตร โหลแก้วใบนี้
มีความจุน้อยกว่า 4 ลิตร

- ☐ 4.  น้ำลำไยเต็มโหลแก้วตวงได้ 8 ลิตรพอดี โหลแก้วใบนี้
มีความจุ 8 ลิตร

- ☐ 5.  ถังน้ำมีน้ำครึ่งถังตวงได้ 10 ลิตร
ถังน้ำมีความจุมากกว่า 10 ลิตร

2 เติมคำตอบในช่องว่าง

1)



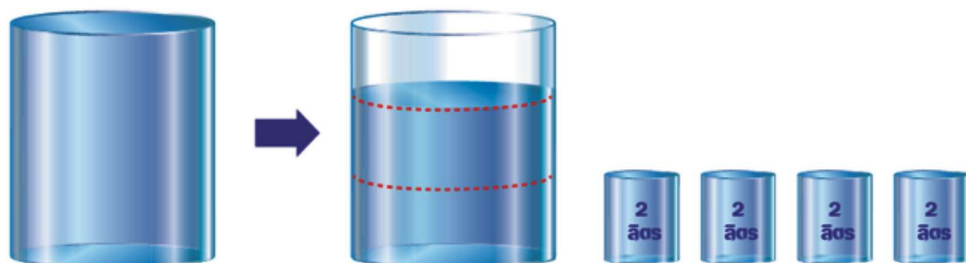
กระบอกมีความจุ ลิตร

2)



ถังใส่น้ำมีความจุ ลิตร

3)



ขวดโหลนี้มีความจุ ลิตร



3 เขียนคำตอบในช่องว่าง

1.



น้ำเต้าหู้เต็มขวดตวงได้ 1 ลิตรพอดี
ขวดใบนี้มีความจุ ลิตร

2.



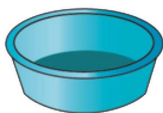
น้ำเต้าหู้เต็มขวด 3 ใบ ขวดแต่ละใบมีความจุ 1 ลิตร
เทน้ำเต้าหู้ทั้ง 3 ขวด ใส่โถได้เต็มโถพอดี
โถใบนี้มีความจุ ลิตร

3.



ถังน้ำดื่มมีน้ำเต็มถัง ตวงได้ 14 ลิตร
ถังใบนี้มีความจุ ลิตร

4.



ขันมีความจุ 2 ลิตร ตักน้ำเต็มขันเทใส่กะละมัง 3 ครั้ง
น้ำเต็มกะละมังพอดี กะละมังใบนี้มีความจุ ลิตร

5.



น้ำส้มในเหยือกตวงได้ 2 ลิตร
เหยือกนี้มีความจุมากกว่าหรือน้อยกว่า 2 ลิตร

6.



ถังน้ำใบนี้มีน้ำอยู่ครึ่งถัง น้ำครึ่งถังตวงได้ 8 ลิตร
ถังใบนี้มีความจุ ลิตร