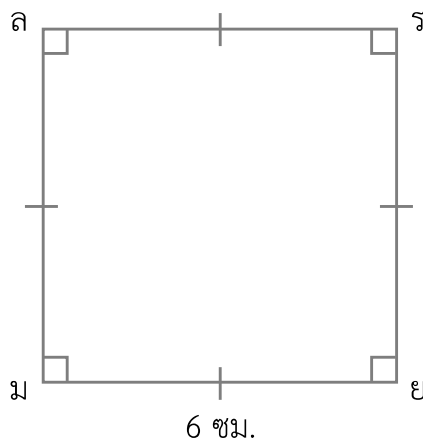


แบบฝึกหัด 5.21

หาพื้นที่ของรูปสี่เหลี่ยมต่อไปนี้

1.



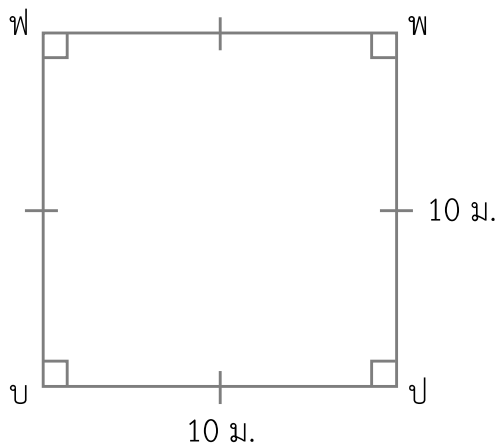
วิธีทำ

พื้นที่รูปสี่เหลี่ยมจัตุรัส = ความยาวของด้าน \times ความยาวของด้าน

รูปสี่เหลี่ยมจัตุรัส มยรล มีพื้นที่ \times = ตารางเซนติเมตร

ตอบ รูปสี่เหลี่ยมจัตุรัส มยรล มีพื้นที่.....ตารางเซนติเมตร

2.



วิธีทำ

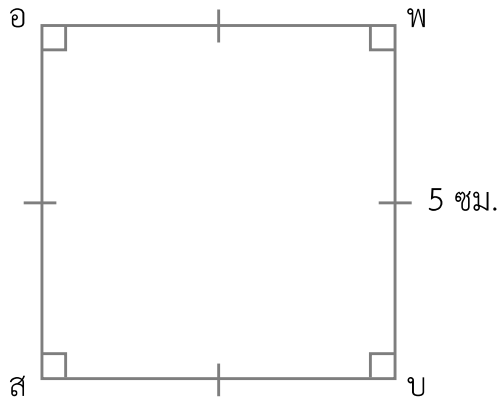
พื้นที่รูปสี่เหลี่ยมจัตุรัส = ความยาวของด้าน \times ความยาวของด้าน

รูปสี่เหลี่ยมจัตุรัส บปพฟ มีพื้นที่ \times = ตารางเมตร

ตอบ รูปสี่เหลี่ยมจัตุรัส บปพฟ มีพื้นที่.....ตารางเมตร



3.



.....

.....

.....

.....

.....

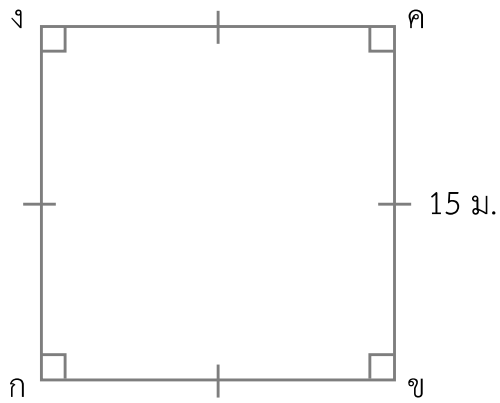
.....

.....

.....



4.



.....

.....

.....

.....

.....

.....

.....

.....

