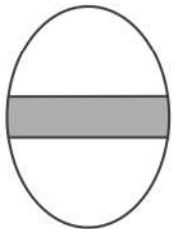
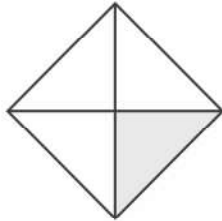


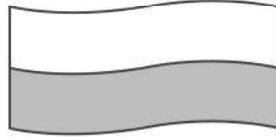
แบบฝึกหัด 3.1



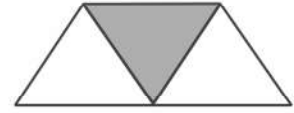
ก



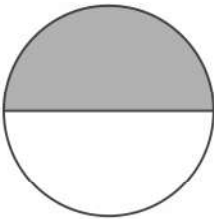
ข



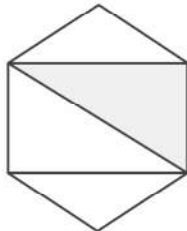
ค




ง



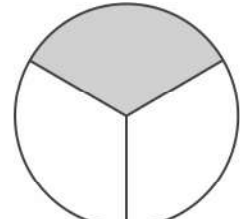
จ



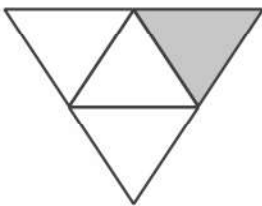
ฉ



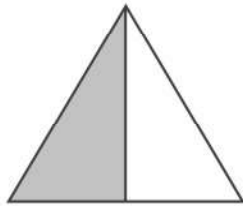
ช



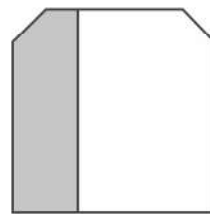
ซ



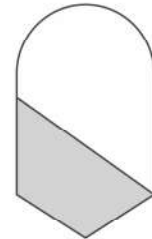
ณ



ญ



ด



ต

1. จากรูปด้านบน ตอบคำถามต่อไปนี้

1) ส่วนที่ระบายสีในข้อใดเป็น $\frac{1}{2}$ ของรูป

.....

2) ส่วนที่ระบายสีในข้อใดเป็น $\frac{1}{3}$ ของรูป

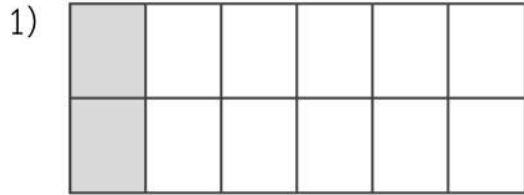
.....

3) ส่วนที่ระบายสีในข้อใดเป็น $\frac{1}{4}$ ของรูป

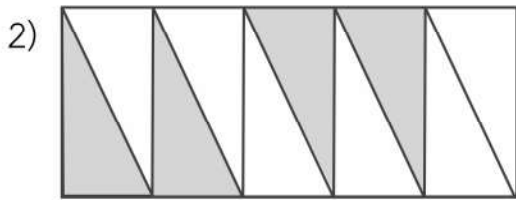
.....



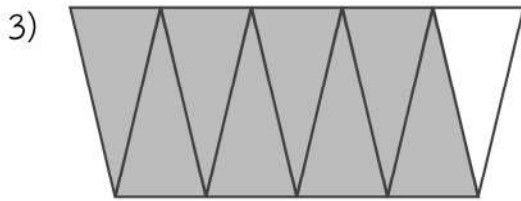
2. เขียนเศษส่วนแสดงส่วนที่ระบายสี พร้อมทั้งเขียนคำอ่าน



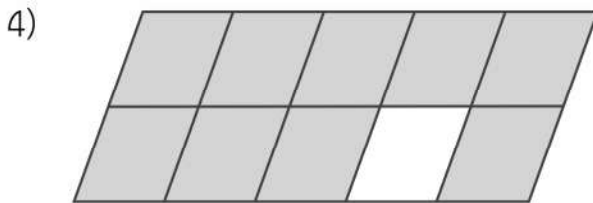
..... อ่านว่า



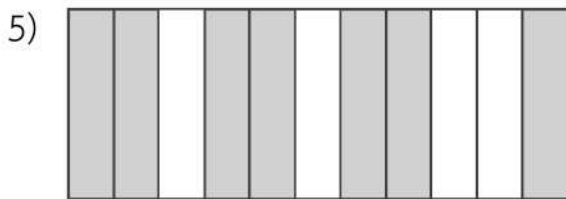
..... อ่านว่า



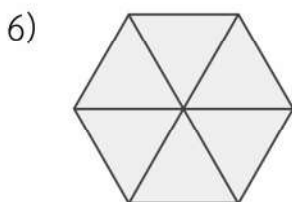
..... อ่านว่า



..... อ่านว่า



..... อ่านว่า



..... อ่านว่า



3. ระบายสีหรือแรเงารูปแสดงเศษส่วน

1) $\frac{3}{4}$



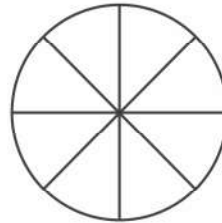
2) $\frac{3}{5}$



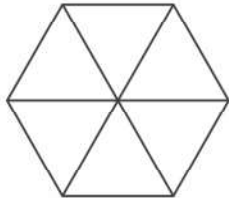
3) $\frac{4}{5}$



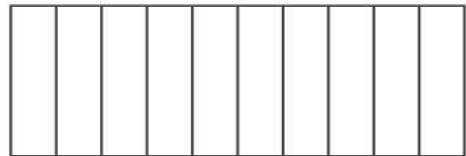
4) $\frac{5}{8}$



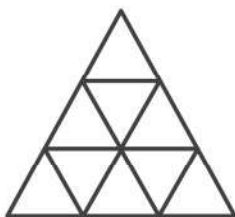
5) $\frac{5}{6}$



6) $\frac{7}{10}$



7) $\frac{8}{9}$



8) $\frac{3}{3}$

