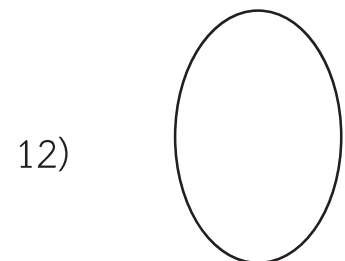
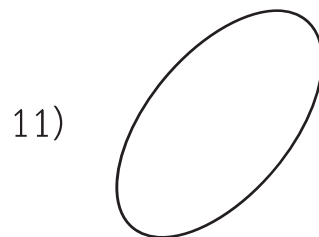
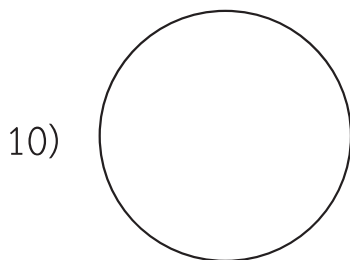
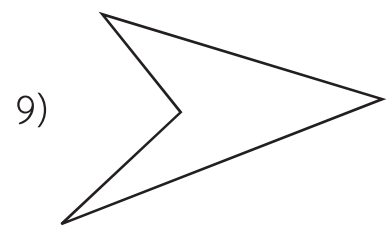
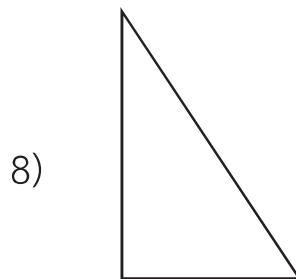
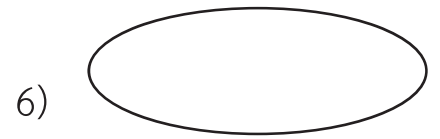
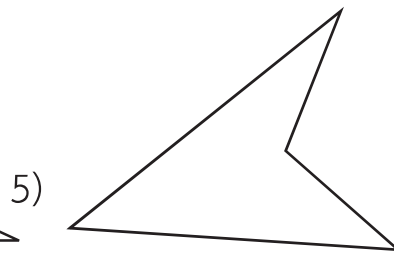
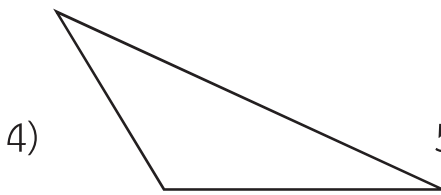
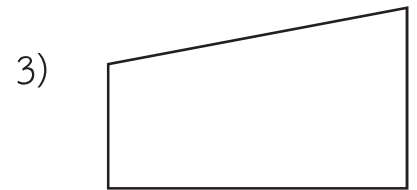
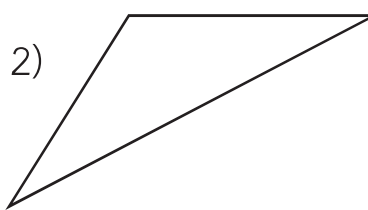

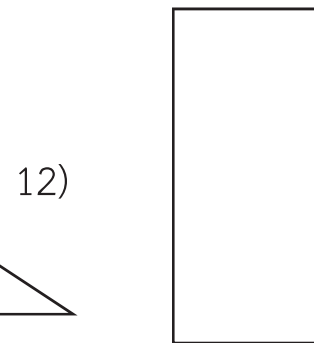
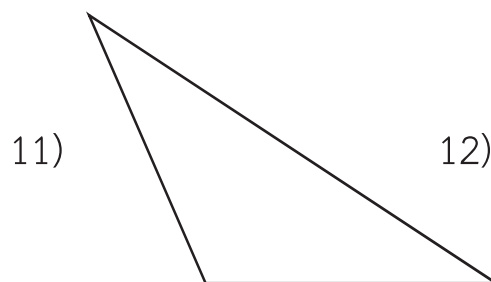
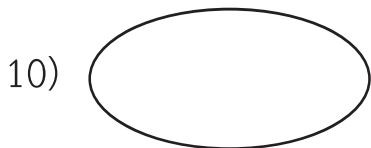
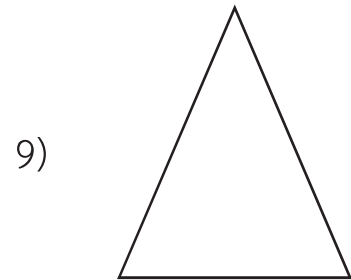
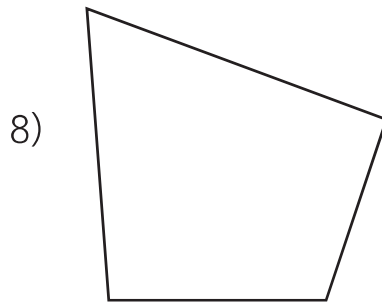
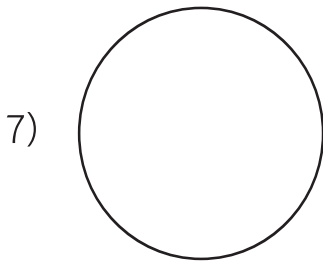
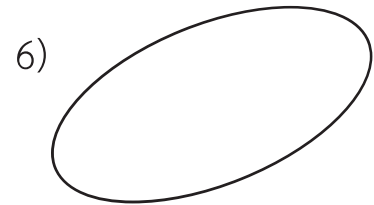

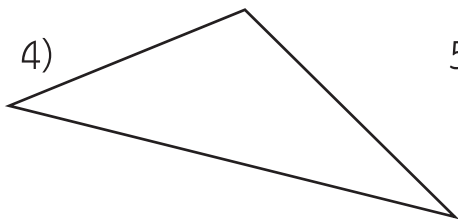
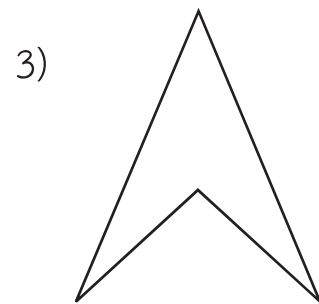
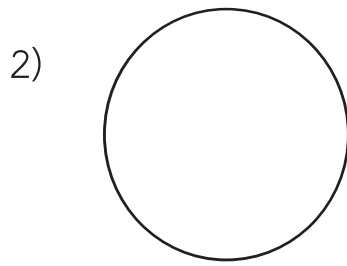
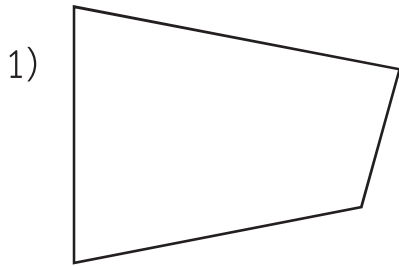


## แบบฝึกหัด 3.2

- 1) เขียน ✓ ในรูปเรขาคณิตสองมิติที่มีขอบเป็นแนวตรง และ  
เขียน ✗ ในรูปเรขาคณิตสองมิติที่มีขอบเป็นเส้นโค้ง



2) เขียน ✓ ในรูปเรขาคณิตสองมิติที่มีมุม และเขียน X ในรูปเรขาคณิตสองมิติที่ไม่มีมุม



### 3 ระบายสีรูปเรขาคณิตสองมิติต่อไปนี้

- รูปสามเหลี่ยม - สีเขียว  
 รูปสี่เหลี่ยม - สีฟ้า  
 วงกลม - สีเหลือง  
 วงรี - สีแดง

